

Examen: GEOGRAFÍA

1. El huracán Harvey se desarrolló en las Antillas Menores como una onda tropical, se debilitó y volvió a intensificarse en la bahía de Campeche el 23 de agosto de 2017. En tan sólo dos días, el huracán de categoría 4 alcanzó las costas del estado de Texas y provocó severas inundaciones. En el párrafo anterior se revela el concepto geográfico de:

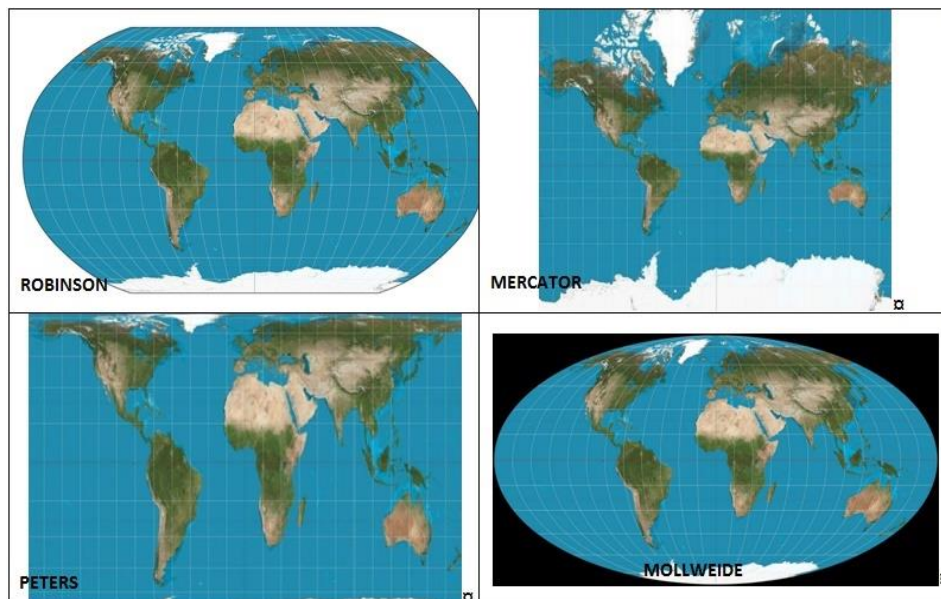
- A) localización.
- B) relación.
- C) cambio.
- D) causalidad.

2. Relaciona los tipos de representación del espacio geográfico con sus características.

Representación	Características
1.-Croquis	a) imagen real tomada a cierta altura con información útil para el análisis del territorio.
2.-Mapa	b) representación plana de la superficie curva de la Tierra con información resumida y expresada en un lenguaje gráfico con una escala determinada.
3.-Fotografía aérea	c) dibujo que representa paisajes o distribuciones de terreno de manera sencilla y sin escala.

- A) 1b, 2a, 3c
- B) 1c, 2b, 3a
- C) 1b, 2c, 3a
- D) 1c, 2a, 3b

3. Elige el tipo de proyección cartográfica que muestra el tamaño y proporción de los países, continentes y océanos de manera más precisa.

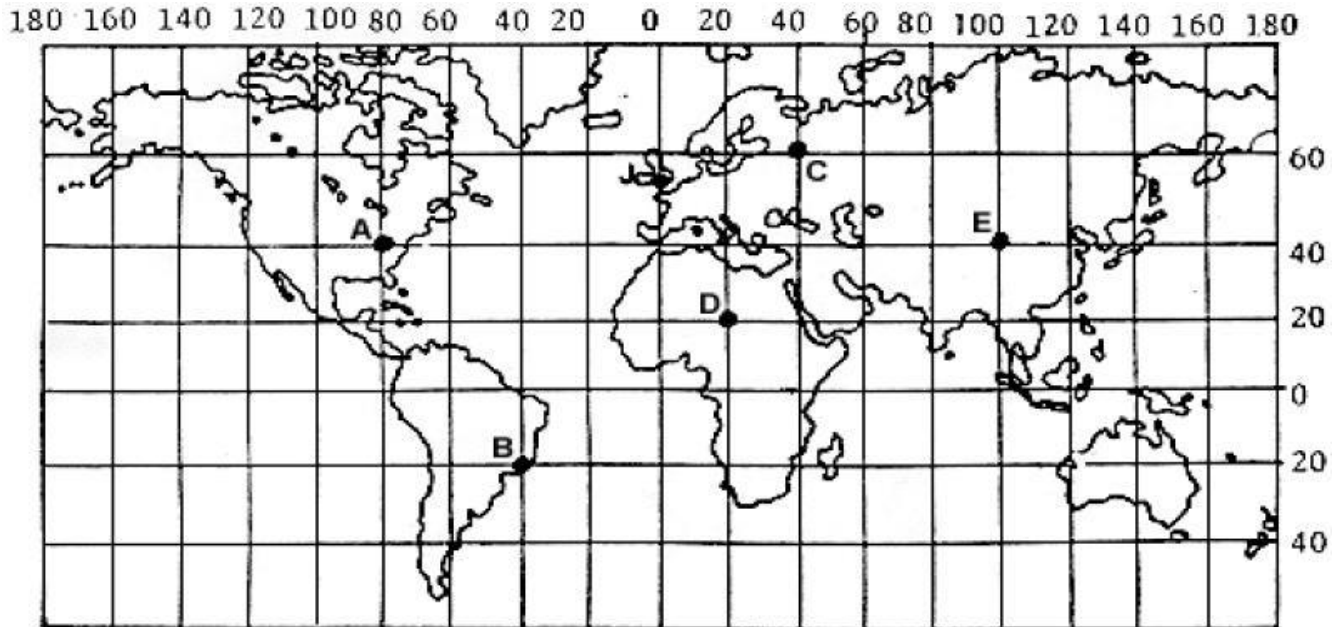


- A) Mercator
- B) Mollweide
- C) Peters
- D) Robinson

4. Representación visual obtenida a través de un sensor mediante la captación de radiación electromagnética emitida o reflejada por la Tierra.

- A) Fotografía aérea
- B) Sistema de Información Geográfica
- C) Proyección cartográfica cilíndrica
- D) Imagen de satélite

5. Latitud de los puntos A, B y E, respectivamente.



- A) 80°N, 40°S, 100°N
- B) 80°E, 40°E, 100°W
- C) 40°E, 20°E, 40°W
- D) 40°N, 20°S, 40°N

6. Si en un mapa escala 1:250 000 se recorre una distancia de 5 centímetros ¿qué distancia real se recorre?

- A) 1250 Km
- B) 1250 m
- C) 12.5 Km
- D) 12.5 m

7. La causa del movimiento de las placas tectónicas son las corrientes convectivas del

- A) manto superior.
- B) núcleo externo.
- C) manto inferior.
- D) núcleo interno.

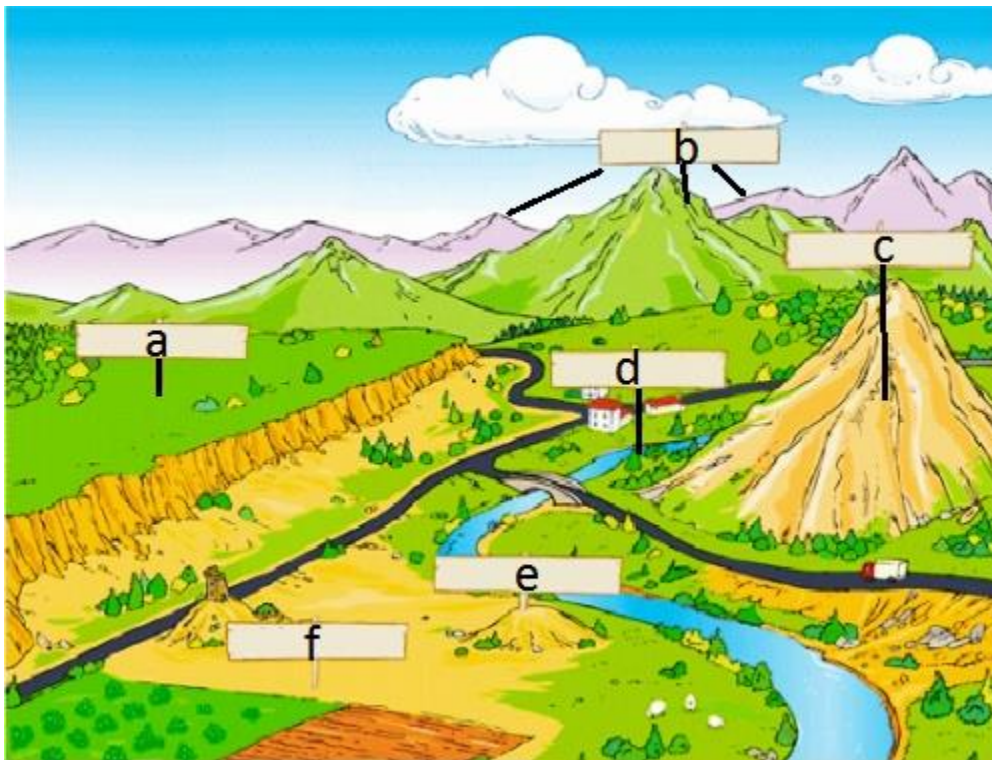
8. Forma del relieve resultante de la separación de placas tectónicas.

- A) Valle del Rift en África occidental
- B) Falla de San Andrés en América del Norte
- C) Cordillera del Himalaya en el Norte de la India
- D) Trinchera Mesoamericana al sur de México

9. El territorio de estos países tiene actividad sísmica y volcánica por ubicarse sobre el Cinturón de Fuego del Pacífico.

- A) Brasil, Indonesia y China
- B) Filipinas, Haití y Argentina
- C) Ecuador, Rusia y Japón
- D) Irán, Canadá y Turquía

10. Formas de relieve terrestre marcadas en la imagen con las letras a, b y f.



- A) Llanura, cordillera y depresión
- B) Meseta, cordillera y llanura
- C) Meseta, altiplano y llanura
- D) Llanura, montaña y depresión

11. Relaciona los tipos de erosión con su principal agente.

Tipos de erosión	Agentes
1. Eólica	a. Lluvia
2. Mecánica	b. Hielo
3. Pluvial	c. Viento
4. Glaciar	d. Gravedad

- A) 1b, 2d, 3a, 4c
- B) 1d, 2c, 3b, 4a
- C) 1c, 2a, 3d, 4b
- D) 1c, 2d, 3a, 4b

12. Tipo de clima, de la clasificación de Köppen, propio de las regiones donde se concentra la mayor parte de la población mexicana.

- A) Aw
- B) BS
- C) Cw
- D) Cf

13. Fenómeno meteorológico que gira en el sentido contrario a las manecillas del reloj en el hemisferio norte, emplea aire cálido y húmedo como combustible y se forma en los océanos de agua cálida, cerca del Ecuador.

- A) Huracán
- B) Tornado
- C) Tromba
- D) Monzón

14. El agua es un recurso vital para los seres vivos del planeta porque:

- A) ayuda a la degradación de la roca madre para la formación de los suelos.
- B) favorece la conservación de la cubierta vegetal del planeta.
- C) regula la temperatura ambiental y es fuente del oxígeno atmosférico.
- D) abunda en sus tres estados físicos: líquido, sólido y gaseoso.

15. Región del mundo que presenta mayor crecimiento poblacional en años recientes.

- A) Europa Oriental
- B) Sureste Asiático
- C) América Latina
- D) África Subsahariana

16. Conjunto de ciudades relacionadas funcionalmente, que intercambian intensos flujos de bienes y personas.

- A) Metrópolis
- B) Megalópolis
- C) Conurbaciones
- D) Periurbanizaciones

17. De acuerdo con la ONU, en 2015 los países del Medio Oriente que recibieron mayor cantidad de migrantes fueron:

- A) Arabia Saudita y Emiratos Árabes Unidos.
- B) Israel y Turquía.
- C) Israel y Arabia Saudita.
- D) Turquía y Emiratos Árabes Unidos.

18. Una de las zonas más pobladas del hemisferio Sur se ubica al:

- A) Sureste de Brasil.
- B) Norte de Chile.
- C) Suroeste de India.
- D) Oeste de Australia.

19. Principal religión que se profesa en Indonesia y en el norte de África.

- A) Cristianismo
- B) Islamismo
- C) Budismo
- D) Judaísmo

20. Las tres dimensiones fundamentales del Índice de Desarrollo Humano son:

- A) salud, educación y pobreza.
- B) pobreza, empleo y alimentación.
- C) alimentación, ingreso per cápita y empleo.
- D) ingreso per cápita, salud y educación.


21. Proceso resultado de la innovación y el progreso tecnológico, que integra las economías del mundo a través del comercio y los flujos financieros.

- A) Industrialización
- B) Globalización
- C) Mercantilismo
- D) Mundialización

22. Actividad productiva que genera los mayores ingresos económicos en el sur de África.

- A) minería
- B) agricultura
- C) pesca
- D) ganadería

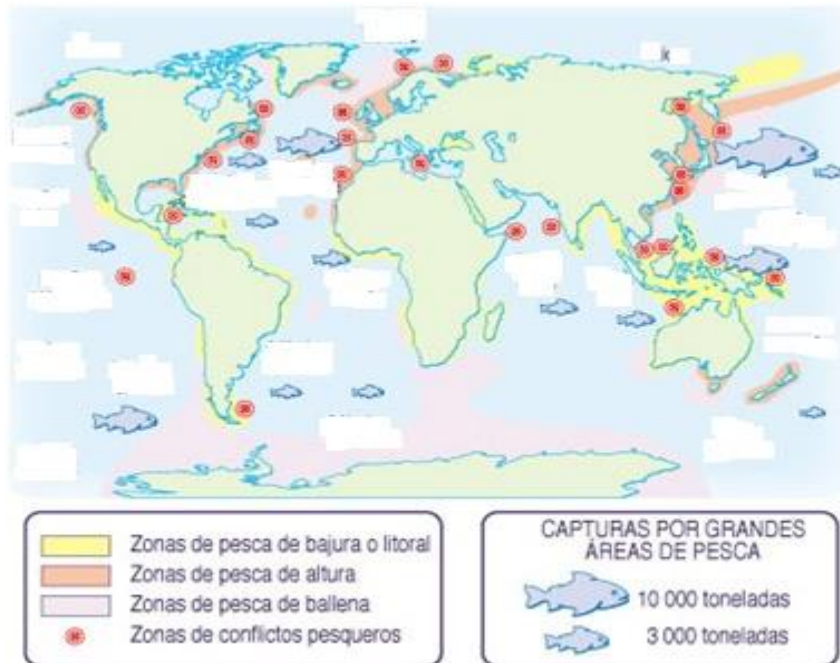
23. Relaciona las imágenes con su tipo de actividad económica correspondiente.



Tipo de actividad económica
a) Primarias
b) Secundarias
c) Terciarias
d) Cuaternarias

- A) 1a, 2b, 3c, 4d
- B) 1c, 2a, 3b, 4d
- C) 1b, 2a, 3d, 4c
- D) 1b, 2c, 3d, 4a

24. Observa el mapa e identifica dos áreas de gran captura de pesca en el mundo.



- A) Pacífico noroccidental y Atlántico nororiental
- B) Índico occidental y Atlántico centro-occidental
- C) Pacífico suroriental y Atlántico suroriental
- D) Atlántico nororiental y Pacífico oriental

25. El principal productor de lana en el mundo es _____, mientras que _____ es el país que produce más leche.

- A) China – Rusia
- B) Nueva Zelanda – India
- C) Australia – Estados Unidos
- D) Uruguay – Alemania

26. Países integrantes del Mercado Común del Sur.

- A) Bolivia y Perú
- B) Venezuela y Colombia
- C) Argentina y Chile
- D) Brasil y Argentina

27. País que aumentó su producción de petróleo de forma significativa en años recientes por medio del *fracking*, a pesar de los altos riesgos que esta práctica implica.

- A) Emiratos Árabes Unidos
- B) Egipto
- C) Estados Unidos de América
- D) Rusia

28. Relaciona cada país con un producto representativo de su economía.

País	Producto
1. China	a) Vino
2. Italia	b) Café
3. Brasil	c) Dátil
4. Marruecos	d) Arroz

- A) 1a, 2b, 3c, 4d
- B) 1b, 2c, 3d, 4a
- C) 1c, 2d, 3a, 4b
- D) 1d, 2a, 3b, 4c

29. Principales elementos que integran una entidad política o estado.

- A) población, economía y recursos.
- B) territorio, población y gobierno.
- C) espacio, economía y población.
- D) población, educación y economía.

30. La Cordillera de los Andes constituye la frontera natural entre:

- A) Perú y Bolivia.
- B) Argentina y Chile.
- C) Colombia y Brasil.
- D) Venezuela y Ecuador.

31. El conflicto armado en la franja de Gaza, desde 1967, ha originado grandes desplazamientos forzados de población de origen:

- A) palestino.
- B) judío.
- C) jordano.
- D) egipcio.

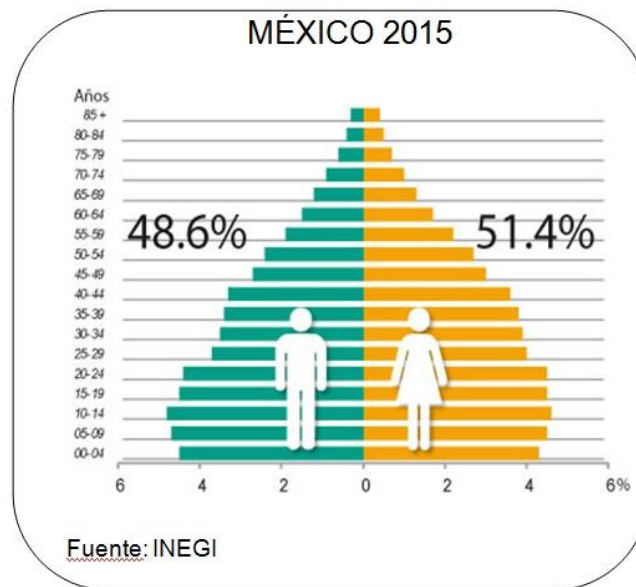
32. Acrónimo del organismo internacional que ha intervenido en apoyo a Estados Unidos en los conflictos políticos en Afganistán e Irak:

- A) UNESCO
- B) FAO
- C) OTAN
- D) OPEP

33. El territorio continental y marítimo de México se ubica sobre las siguientes placas tectónicas.

- A) Norteamericana y Pacífica
- B) Norteamericana y Caribe
- C) Norteamericana y Nazca
- D) Caribe y Pacífica

34. La pirámide de edad de México en 2015 tiende a ser:

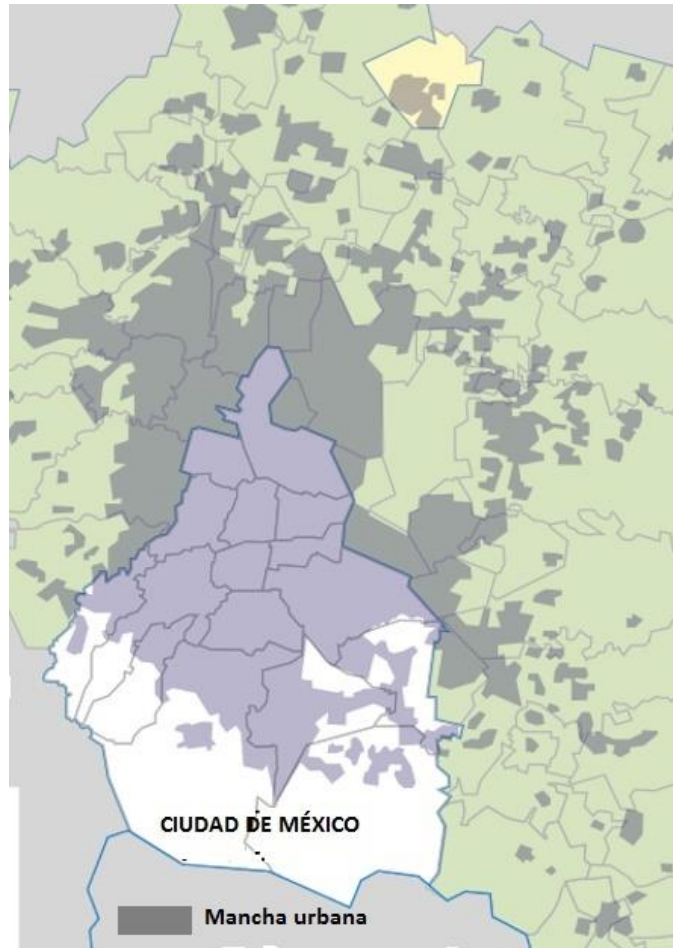


- A) inversa.
- B) estacionaria.
- C) regresiva.
- D) expansiva.

35. Los dos estados menos poblados de nuestro país, en 2015, fueron:

- A) Colima y Campeche.
- B) Baja California Sur y Veracruz.
- C) Campeche y Estado de México.
- D) Baja California Sur y Colima.

36. Según el mapa, las delegaciones con menor cobertura territorial de la mancha urbana de la Ciudad de México son:



- A) Tlalpan, Milpa Alta y Álvaro Obregón.
- B) Álvaro Obregón, Tláhuac y Magdalena Contreras.
- C) Tlalpan, Milpa Alta y Magdalena Contreras.
- D) Tláhuac, Cuajimalpa y Álvaro Obregón.

37. De acuerdo con la información del mapa el mayor flujo migratorio va de



- A) Puebla al Estado de México.
- B) Sinaloa a Baja California.
- C) Tamaulipas a Veracruz.
- D) Veracruz a Tamaulipas.

38. Relaciona los puertos de las zonas pesqueras de México con los estados a los que pertenecen:

Puertos	Estados
I. Guaymas	a) Sinaloa
II. Progreso	b) Michoacán
III. Mazatlán	c) Tamaulipas
IV. Tampico	d) Sonora
V. Lázaro Cárdenas	e) Yucatán

- A) Ia, Iie, IIIId, IVc, Vb
- B) Ic, IId, IIIa, IVb, Ve
- C) Id, Iie, IIIa, IVc, Vb
- D) Ia, IIc, IIIb, IVd, Ve

39. En las zonas templadas de México se producen cantidades considerables de

A) caña de azúcar y café.

B) manzana y trigo.

C) nopal y papaya.

D) limón y henequén.

40. Río de México que desemboca en el Océano Pacífico y contribuye a la generación de energía eléctrica porque sobre su cauce se ubican las presas “El Caracol” y “El Infiernillo”.

A) Santiago

B) Mayo

C) Yaqui

D) Balsas