

**Examen: GEOGRAFIA**

1. Observa las imágenes del sur de Manhattan (Nueva York, Estados Unidos de América) antes y después del 11 de septiembre de 2001. Elige el concepto geográfico aplicado al comparar las imágenes.



- A) Cambio
- B) Distribución
- C) Relación
- D) Dirección

2. Un biólogo explorará la Sierra Tarahumara para registrar los tipos de vegetación que hay en diferentes altitudes, para ubicarse y completar su misión necesitará

- A) un croquis de la región.
- B) un mapa de uso del suelo.
- C) una carta topográfica.
- D) una carta edafológica.

3. Relaciona las siguientes columnas entre los tipos de mapas y la información representada.

Tipo de mapa	Información representada
1. Topográfico	a) fenómenos atmosféricos
2. Edafológico	b) curvas de nivel
3. Meteorológico	c) ríos
4. Geológico	d) suelos
5. Hidrográfico	e) rocas

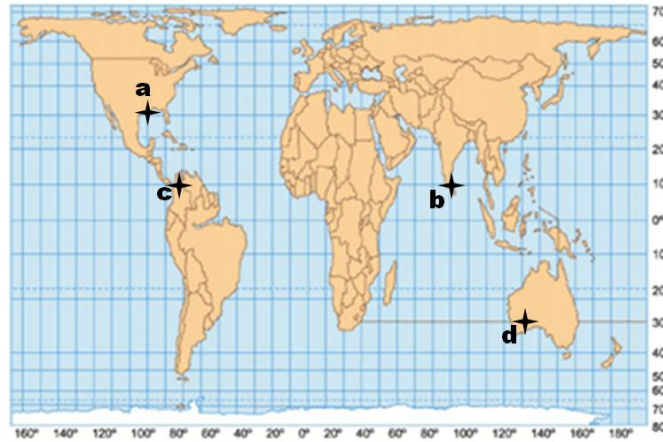
- A) 1 d, 2 b, 3 a, 4 e, 5 c
- B) 1 a, 2 e, 3 d, 4 b, 5 c
- C) 1 e, 2 b, 3 a, 4 d, 5 c
- D) 1 b, 2 d, 3 a, 4 e, 5 c

4. Un piloto volará de Montreal, Canadá a Moscú, Rusia y la ruta más corta a seguir es a través del Océano Ártico, por lo que su mapa de navegación aérea está elaborado en una de las siguientes proyecciones:

- A) cilíndrica
- B) azimutal
- C) cónica
- D) Mollweide

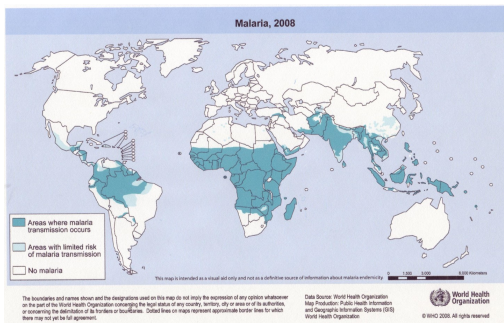
Examen: GEOGRAFIA

5. Observa el mapa e identifica las coordenadas geográficas de los puntos a y b

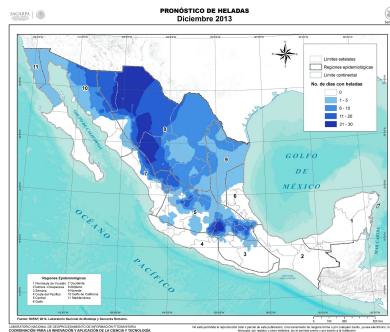


- A) 30°N 100°W – 10°N 80°W
- B) 10°N 90°E – 30°S 130°E
- C) 10°N 80°W – 30°S 130°E
- D) 30°N 100°W – 10°N 90°E

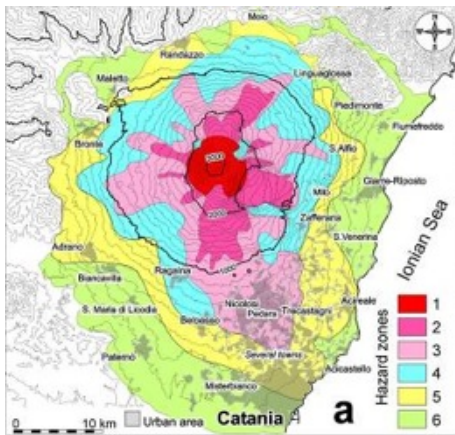
6. Identifica el mapa con la escala cartográfica más pequeña



Planisferio



México



Volcán Etna



Iraq

## Examen: GEOGRAFIA

- A) Planisferio
- B) México
- C) Volcán Etna
- D) Iraq

7. La representación cartográfica que se muestra a continuación contiene, además de la escala, los siguientes elementos básicos:



- A) acotaciones, leyenda y orientación.
- B) simbología, leyenda y gradícula.
- C) gradícula, orientación y altitud.
- D) coordenadas, batimetría y simbología.

8. Semicírculo que divide a la Tierra en los hemisferios oriental y occidental

- A) Ecuador 0°
- B) Meridiano 0°
- C) Trópico
- D) Eclíptica

9. Capa interna de la Tierra que ocupa el mayor volumen:

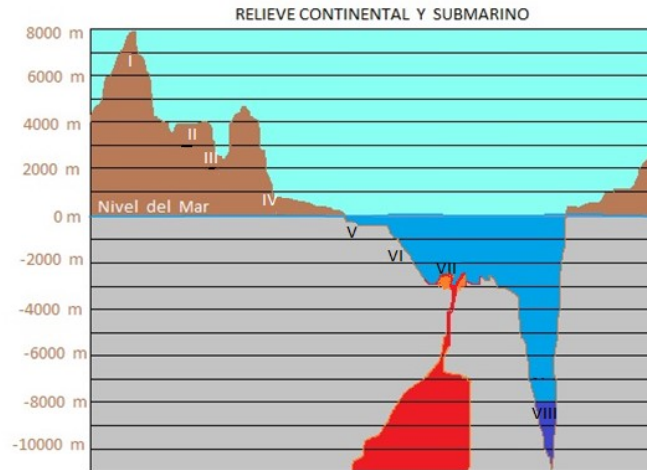
- A) Manto
- B) Litosfera
- C) Núcleo
- D) Atmósfera

10. Zona de intensa actividad volcánica y sísmica originada por la subducción de las placas tectónicas

- A) Falla de San Andrés
- B) Valle del Rift
- C) Dorsal Meso-Atlántica
- D) Cinturón de Fuego del Pacífico

**Examen: GEOGRAFIA**

11. Observa el esquema e identifica, respectivamente, las zonas del relieve continental donde se establece la población y se utilizan para actividades agrícolas, asimismo, la zona del relieve submarino de mayor importancia económica.



- A) II, IV y V
- B) III, IV y VIII
- C) II, III y VII
- D) II, IV y VI

12. Oro, hierro y carbón son recursos naturales clasificados como

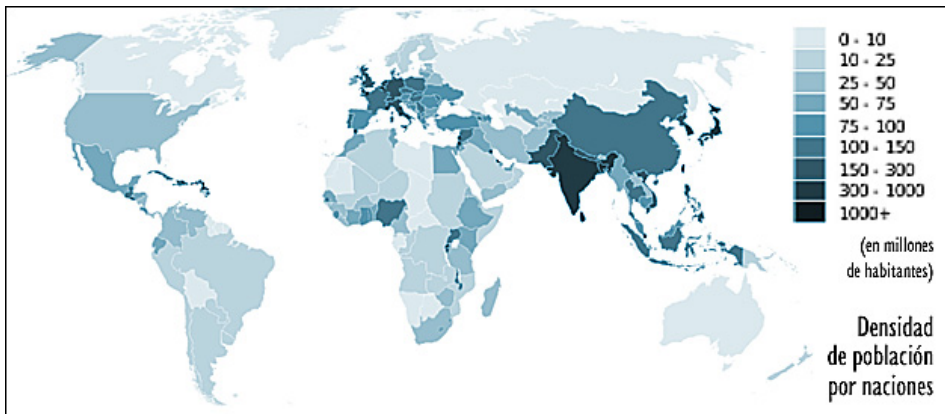
- A) no agotables.
- B) perennes.
- C) no renovables.
- D) reutilizables.

13. Un tornado es un fenómeno que se caracteriza por ser una gran depresión atmosférica que ocurre en:

- A) el océano para luego moverse rápidamente a tierra donde adquiere su máxima potencia.
- B) el continente y luego se desplaza con rapidez hacia el océano donde adquiere su velocidad máxima.
- C) la alta atmósfera y en superficies montañosas donde se amplía su vórtice en 500 Km.
- D) llanuras amplias con presencia de aire cálido que se eleva en corrientes ascendentes y violentas.

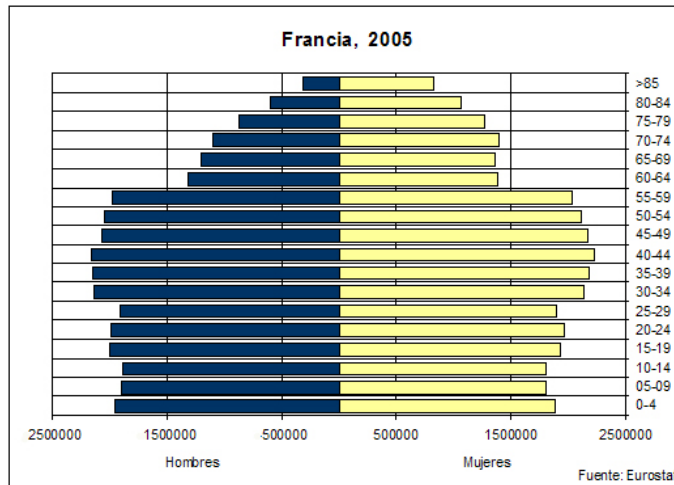
14. Observa el mapa y determina la lista de los países con mayor densidad de población.

Examen: GEOGRAFIA



- A) Japón, Italia y Egipto
- B) India, Corea del Sur y Alemania
- C) Alemania, Italia y Turquía
- D) Bangladesh, China y Países Bajos

15. La pirámide de población de Francia muestra una tendencia demográfica



- A) expansiva.
- B) progresiva.
- C) estacionaria.
- D) regresiva.

16. Los asentamientos rurales y urbanos \_\_\_\_\_

- A). establecen vínculos entre sí con distintos grados de integración e importancia.
- B) al relacionarse presentan características y funcionalidad similares en todo el mundo.
- C) se relacionan entre sí sólo a través del intercambio de alimentos.
- D) se desarrollan económicamente de forma independiente.

17. Una región con intenso movimiento emigratorio a nivel mundial va de \_\_\_\_\_ a \_\_\_\_\_

- A) América del Norte-Europa.
- B) Sur de África-Europa.
- C) América Central-América del Norte.
- D) Norte de África-Medio Oriente.

**Examen: GEOGRAFIA**

18. Idiomas oficiales que se hablan, respectivamente, en Nigeria, Angola y Chad:

- A) inglés, portugués y francés
- B) inglés, portugués y árabe
- C) árabe, inglés y persa
- D) francés, inglés y árabe

19. Del siguiente listado identifica las características que definen el modelo económico predominante del mundo actual.

1. Promover la innovación tecnológica.
2. Considerar los sistemas naturales de manera integral.
3. Ponderar al máximo la producción y el consumo.
4. Favorecer el máximo bienestar de la sociedad.
5. Priorizar el contexto productivo sobre el ambiental.

- A) 2,1,3
- B) 1,3,4
- C) 1,3,5
- D) 2,5,4

20. Países de Europa Oriental que se integraron a la Unión Europea en 2007:

- A) Ucrania y Chipre
- B) Croacia y Macedonia
- C) Rumania y Bulgaria
- D) Malta y Albania

21. La principal región industrial de América del Norte se localiza en el

- A) NE de Estados Unidos y SW de Canadá.
- B) NE de Estados Unidos y SE de Canadá.
- C) NW de Estados Unidos y SW de Canadá.
- D) SW de Estados Unidos y SE de Canadá.

22. Países europeos con mayor producción pesquera

- A) Finlandia, Portugal, Reino Unido
- B) Alemania, España, Suecia
- C) Francia, Portugal, Italia
- D) Noruega, Islandia, España

23. Países que encabezan la producción mundial de alimentos y existencia de ganado en años recientes

- A) Francia y Canadá
- B) India y China
- C) Estados Unidos y Australia
- D) Rusia y Argentina

24. Selecciona las funciones del Estado

- I. Administrar la hacienda pública.
- II. Intervenir en asuntos internos de otros estados.
- III. Permitir a la sociedad introducir servicios públicos.
- IV. Lograr el bien común de la sociedad.
- V. Mantener a la sociedad con un alto nivel de vida.
- VI. Preservar la integridad territorial.

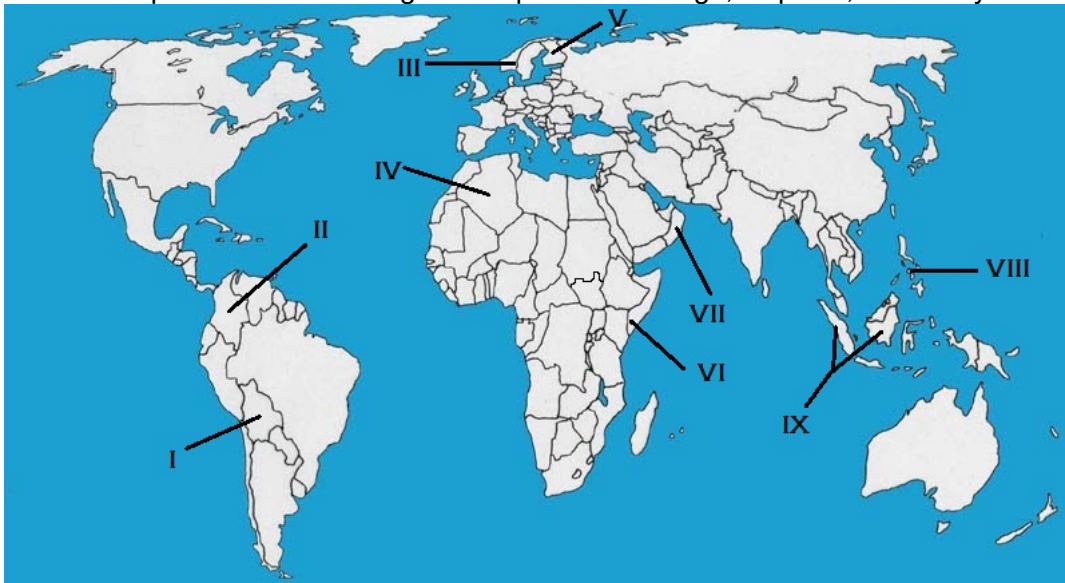
Examen: GEOGRAFIA

- A) I, IV, VI
- B) II, V, III
- C) III, IV, I
- D) V, I, VI

25. Ríos que son línea fronteriza de México con otros países.

- A) Bravo, Pánuco y Suchiate
- B) Grijalva, Bravo y Hondo
- C) Colorado, Usumacinta y Hondo
- D) Usumacinta, Bravo y Belice

26. Observa el mapa e identifica los siguientes países: Noruega, Filipinas, Somalia y Bolivia.



- A) Noruega V, Filipinas VIII, Somalia VI y Bolivia I
- B) Noruega V, Filipinas IX, Somalia VII y Bolivia II
- C) Noruega III, Filipinas VIII, Somalia VI y Bolivia I
- D) Noruega III, Filipinas IX, Somalia VII y Bolivia II

27. La reciente crisis política de Ucrania se agudizó por el apoyo de Rusia en la independencia de

- A) Luhansk
- B) Kiev
- C) Minsk
- D) Crimea

28. País del Medio Oriente que presenta actualmente gran número de desplazados por los conflictos bélicos en su territorio:

- A) Siria
- B) Qatar
- C) Jordania
- D) Israel

Examen: GEOGRAFIA

29. Acrónimo de una instancia de la Organización de las Naciones Unidas encargada de atender los asuntos de los refugiados y desplazados.

- A) ACNUR
- B) PNUMA
- C) ACNUDH
- D) UNCTAD

30. La diversidad climática del territorio mexicano es un recurso importante porque favorece

- A) las actividades del transporte aéreo y terrestre.
- B) el sector económico secundario y el comercio.
- C) las actividades primarias y el sector turístico.
- D) el sector turístico y el transporte aéreo.

31. Región geográfica de México propicia para la agricultura

- A) Bolsón de Mapimí
- B) Llanura costera del Golfo
- C) Huasteca hidalguense
- D) Península de Yucatán

32. Observa la vegetación de las siguientes imágenes y elige la que se asocia al clima Cw de la clasificación de Wladimir Köppen.



I



II



III



IV



**Examen: GEOGRAFIA**

- A) I
- B) II
- C) III
- D) IV

33. Entidad federativa que tiene una alta vulnerabilidad a la ocurrencia de inundaciones, por sus características topográficas, elevados niveles de precipitación pluvial y la confluencia de caudalosos ríos en su territorio.

- A) Yucatán
- B) Campeche
- C) Tabasco
- D) Quintana Roo

34. Según el Censo de Población y Vivienda de 2010, las entidades mexicanas con menor densidad de población son

- A) Coahuila, Tamaulipas y Veracruz.
- B) Sonora, Quintana Roo y Nayarit.
- C) Chihuahua, Guanajuato y Jalisco.
- D) Baja California Sur, Durango y Campeche.

35. Observa el mapa e identifica los grupos indígenas predominantes en las regiones 1, 2 y 3.



- A) Mayo, Mixteco, Otomí
- B) Maya, Tarahumara, Huichol
- C) Mixteco, Purépecha, Zapoteco
- D) Otomí, Maya, Totonaco

36. México tiene una importante producción pesquera de

- A) atún y camarón.
- B) bacalao y arenque.
- C) huachinango y esturión.
- D) róbalo y salmón.

37. La ubicación geográfica del territorio mexicano propicia que los estados de \_\_\_\_\_ tengan una mayor aportación al Producto Interno Bruto de la industria manufacturera de exportación de equipo electrónico y autopartes.

- A) Sonora, Chihuahua y Guanajuato
- B) Coahuila, Nuevo León y Jalisco
- C) Baja California, Chihuahua y Tamaulipas
- D) Puebla, Sinaloa y Estado de México

**Examen: GEOGRAFIA**

38. Observa el mapa e identifica los países en color gris donde la empresa trasnacional mexicana Bimbo no distribuye sus productos.

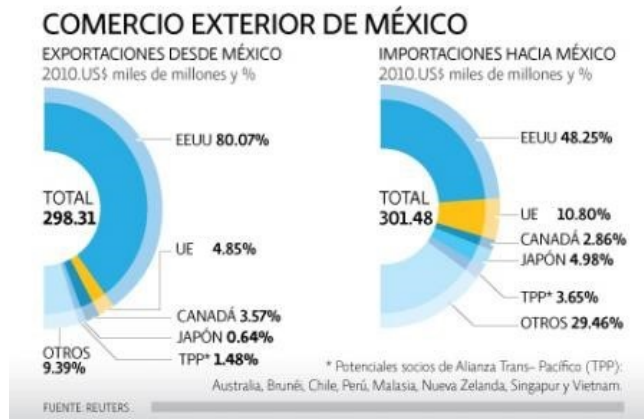


- A) Paraguay, Guyana y Venezuela
- B) Bolivia, Guyana y Surinam
- C) Uruguay, Perú y Surinam
- D) Ecuador, Colombia y Surinam

39. Actualmente es la red de transporte más importante de México por la cantidad de mercancías y pasajeros que moviliza al interior del país.

- A) fluvial
- B) aérea
- C) ferroviaria
- D) carretera

40. Observa las gráficas e identifica los socios con los cuales México tuvo un déficit en su balanza comercial en 2010.



- A) Unión Europea y Japón
- B) Estados Unidos de América y Unión Europea
- C) Japón y Estados Unidos de América
- D) Estados Unidos de América y Canadá